



**EVALUAREA COMPETENȚELOR FUNDAMENTALE
LA FINALUL CLASEI a II-a
2019**

Test 1

MATEMATICĂ

Județul / sectorul.....

Localitatea.....

Școala.....

Numele și prenumele elevei / elevului.....

.....

Clasa a II-a.....



Băiat

Fată

3. Gabriel a așezat câteva poze ca în imaginea de mai jos. Câte poze a așezat în total Gabriel?

Află rezultatul prin adunarea repetată a aceluiași număr.

Scrive, pe spațiul dat, rezolvarea problemei.



Nu se completează de către elev
COD

3.

4. Tudor a așezat pozele pe 6 rânduri, fiecare rând având câte 5 poze. Câte poze a așezat Tudor?


Încercuiește litera corespunzătoare răspunsului corect.

- a) 1;
- b) 11;
- c) 30;
- d) 35.

Nu se completează de către elev
COD

4.

5. Simona are 12 poze diferite și prezintă colegilor săi câte 3 poze în fiecare zi.
În câte zile reușește Simona să prezinte toate pozele?
Află rezultatul prin scăderea repetată a aceluiași număr.
Scrie, pe spațiul dat, rezolvarea problemei.



Nu se completează de către elev
COD

5.

6. Cu ce figură geometrică seamănă poza de mai jos?

Încercuiește litera corespunzătoare răspunsului corect.



- a) cerc;
- b) dreptunghi;
- c) pătrat;
- d) triunghi.

Nu se completează de către elev
COD

6.

7. Tudor a lucrat de la ora 11:00 până la ora 14:00.

Câte ore a lucrat Tudor?



Încercuiește litera corespunzătoare răspunsului corect.

- a) 3 ore;
- b) 4 ore;
- c) 14 ore;
- d) 25 ore.

Nu se completează de către elev
COD

7.	<input type="text"/>
----	----------------------

8. **Scrive, pe spațiul dat, numele figurilor geometrice de mai jos.**



Nu se completează de către elev
COD

8.	<input type="text"/>
----	----------------------



FELICITĂRI, AI AJUNS LA SFÂRȘITUL TESTULUI!

MULȚUMIM PENTRU PARTICIPARE!